
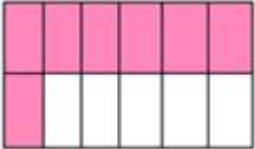
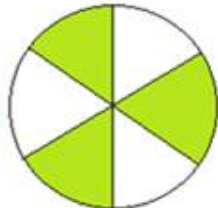
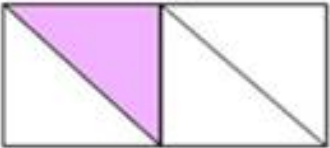
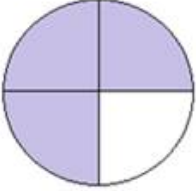
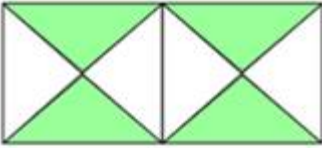
	COLEGIO COLOMBO BRITANICO	
	AULA TALLER DE MATEMÁTICAS	
	GRADO: 5	Tema: Números Decimales

FECHA:

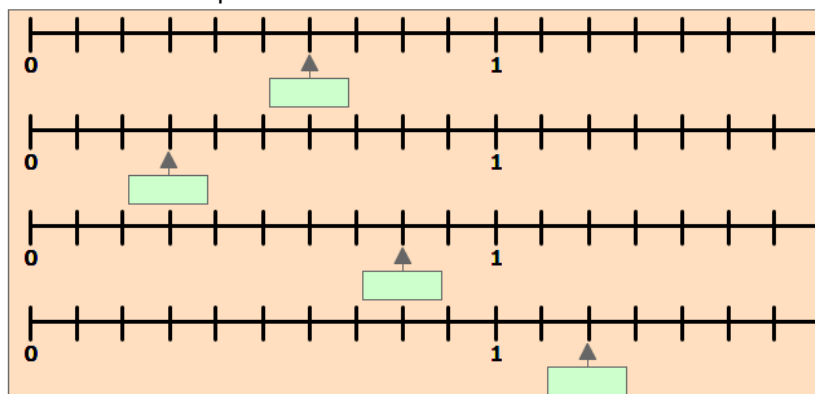
Pensamiento:	Numérico
Conceptos:	Números decimales: fracciones decimales, valor posicional, lectura, escritura, orden, operaciones con decimales.
Desempeños:	<ul style="list-style-type: none"> - Reconoce el uso de los números decimales en diferentes contextos. - Determina el valor de posición de una cifra en un número decimal. - Realiza operaciones entre números decimales y las aplica en la solución de problemas.

Nombres: _____

1. Convertir las siguientes fracciones en números decimales

		
Fracción:	Fracción:	Fracción:
Decimal:	Decimal:	Decimal:
		
Fracción:	Fracción:	Fracción:
Decimal:	Decimal:	Decimal:

2. Escribe el número decimal representado en cada recta numérica



3. Completar en cada casilla el número decimal que corresponde

$\frac{32}{100}$	$\frac{189}{100}$	$\frac{1569}{10}$	$\frac{4862}{1000}$	$\frac{67}{100}$	$\frac{39}{10}$	$\frac{2255}{100}$	$\frac{34596}{1000}$

4. Completar con la fracción decimal que corresponde.

2,95	0,01	1,89	453,40	0,375	0,8	18,62	3,125

5. Con la ayuda de la escuadra mide 5 objetos del aula taller y ordénalos de menor a mayor.

Objeto	Objeto	Objeto	Objeto	Objeto

Imágenes tomadas de:

Fracciones: <http://www.monografias.com/trabajos88/fracciones-y-numeros-mixtos/image002.jpg>

Rectas numéricas: [http://4.bp.blogspot.com/-](http://4.bp.blogspot.com/-UagpT1wV7Fo/T6qVmYE1LZI/AAAAAAAAAxo/2n_myDU5_L0/s1600/Decimales+-)

[UagpT1wV7Fo/T6qVmYE1LZI/AAAAAAAAAxo/2n_myDU5_L0/s1600/Decimales+-+Los+decimales+en+la+recta+num%C3%A9rica.png](http://4.bp.blogspot.com/-UagpT1wV7Fo/T6qVmYE1LZI/AAAAAAAAAxo/2n_myDU5_L0/s1600/Decimales+-+Los+decimales+en+la+recta+num%C3%A9rica.png)