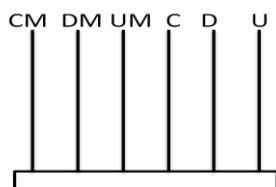
	COLEGIO COLOMBO BRITANICO	
	AULA TALLER DE MATEMÁTICAS	
	GRADO: 2	Tema: Números de cuatro y cinco cifras. FECHA:

Pensamiento:	Numérico
Conceptos:	Números de cuatro y cinco cifras. Relaciones de orden.
Desempeño:	Identifica las relaciones de orden en números de cuatro y cinco cifras

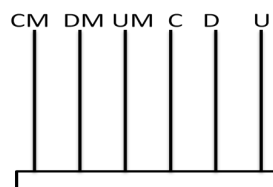
Nombres: _____

Escribe el número que forman las siguientes cifras, representa los números usando el ábaco y dibuja como queda:

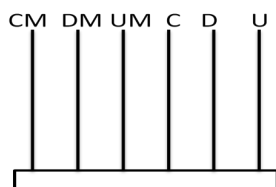
3 centenas, una unidad, 3 decenas de mil, dos decenas _____



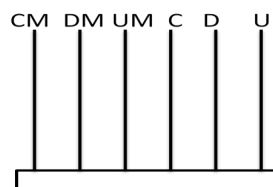
4 decenas, 4 decenas de mil, 8 unidades de mil _____



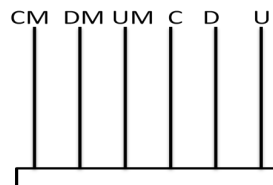
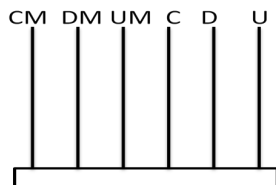
9 unidades de mil, 9 unidades, 7 centenas, 5 decenas _____



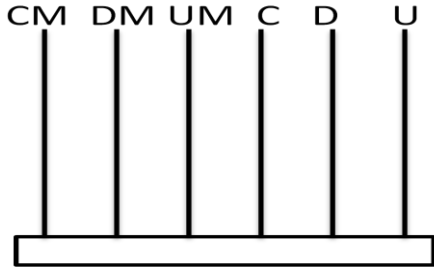
Una decena, 3 unidades, 4 unidades de mil, 6 centenas _____



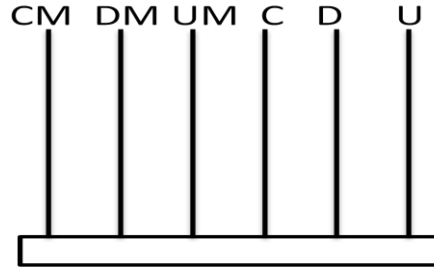
8 unidades de mil, 4 decenas de mil, 7 unidades, 2 5 decenas de mil, 5 unidades, 5 centenas decenas _____



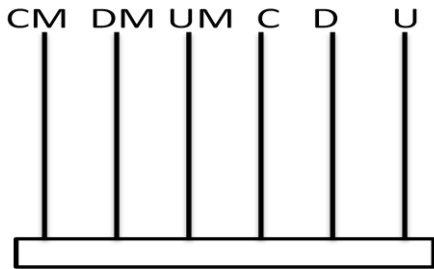
Ahora arma todos números que puedas usando estas 5 posiciones, escribe y dibuja los números que formas:



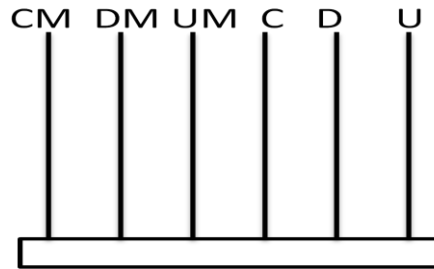
Número: _____



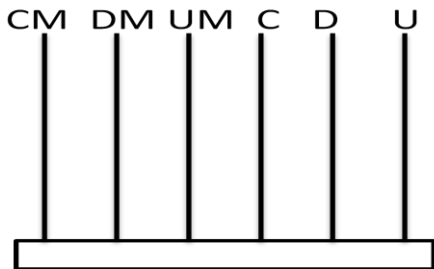
Número: _____



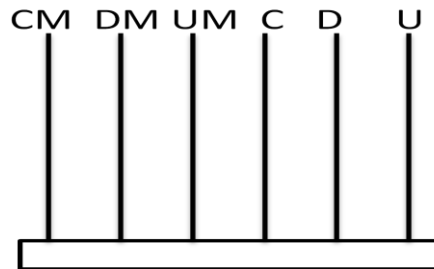
Número: _____



Número: _____



Número: _____



Número: _____