	<b>COLEGIO COLOMBO BRITANICO</b>	
	<b>AULA TALLER DE MATEMÁTICAS</b>	
	<b>GRADO:</b> 2	<b>Tema:</b> La longitud, unidades de medida

**FECHA:**

<b>Pensamiento:</b>	Métrico
<b>Conceptos:</b>	Unidades de medida (Centímetro, decímetro, metro) y Perímetro.
<b>Desempeño:</b>	- Identifica las figuras planas que se pueden formar trazando las caras de un cuerpo geométrico. - Mide la longitud de las figuras planas y halla su perímetro

Nombres: \_\_\_\_\_  
 \_\_\_\_\_  
 \_\_\_\_\_

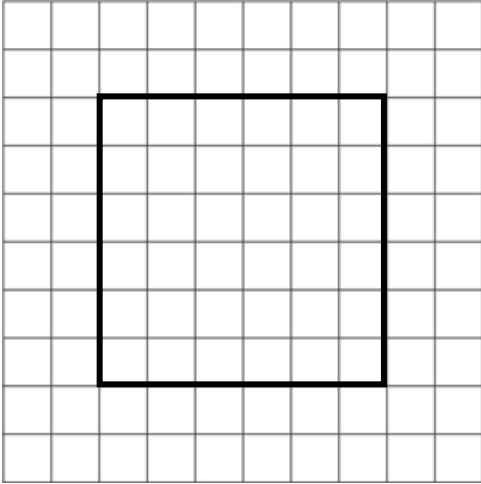
1. Dibuje un cuadrado de los que encuentre sobre la mesa y mida con la escuadra cada uno de sus lados.

¿Cuál es su perímetro? \_\_\_\_\_

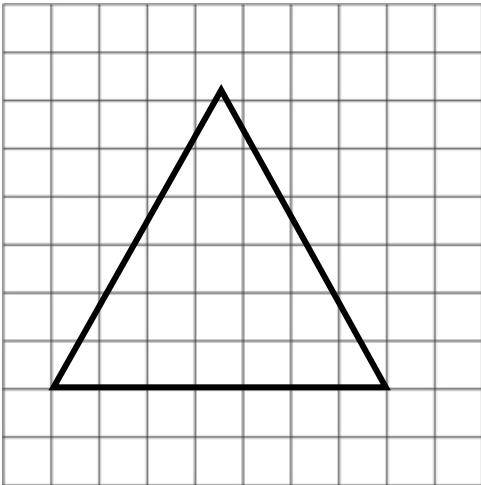
2. Dibuje uno de los triángulos que encuentre sobre la mesa y mida con la escuadra cada uno de sus lados

¿Cuál es su perímetro? \_\_\_\_\_

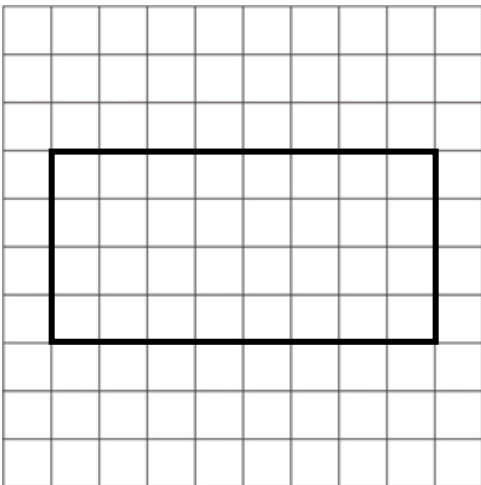
3. Si cada cuadrado mide 1dm, medir cada uno de los lados de las siguientes figuras y decir su perímetro.



¿Cuál es su perímetro? \_\_\_\_\_



¿Cuál es su perímetro? \_\_\_\_\_



¿Cuál es su perímetro? \_\_\_\_\_