






	<b>COLEGIO COLOMBO BRITANICO</b>		
	<b>AULA TALLER DE MATEMÁTICAS</b>		
	<b>GRADO:</b> 6	<b>TEMA:</b> Medición y clasificación de ángulos	<b>FECHA:</b>

<b>Pensamiento:</b>	Numérico
<b>Conceptos:</b>	Medición y clasificación de ángulos
<b>Desempeño:</b>	Construye, clasifica y mide ángulos.

Nombres: \_\_\_\_\_

Taller para trabajar en equipos de tres personas.

Clasifique los siguientes ángulos por su nombre según su medida y luego representélos en el geoplano con la ayuda del transportador:

Ángulo	Clasificación	Representación en el Geoplano	Ángulo	Clasificación	Representación en el Geoplano
45°			180°		
90°			225°		
135°			270°		
315°			<div style="border: 1px solid black; background-color: #e0f0e0; padding: 10px; width: fit-content; margin: 10px auto;">           Recuerda: Los ángulos se pueden clasificar en agudos, rectos, obtuso, cóncavo, llano, convexo y completo.         </div>		